

Интервал - это расстояние между двумя звуками.

Задание 1.

Соедини стрелочками название интервалов и цифры, которыми они обозначаются.

Прима	3
Секунда	5
Терция	1
Кварта	4
Квинта	6
Секста	2
Септима	8
Октава	7

Укажи, сколько ступеней охватывает каждый интервал.

Прима - Секунда - Терция - Кварта -
Квинта - Секста - Септима - Октава -

Задание 2.

Построй все интервалы от данных звуков вверх

Примеры:

прима секунда терция кварта квинта секста септима октава


1 2 3 4 5 6 7 8

Задание 3.


Построй интервалы вниз



Подпиши цифрами эти интервалы



Найди ошибки и исправь их



Построй интервалы от любых звуков вверх или вниз



Укажи, какое расстояние (тон, полутон) образуется между данными звуками





Нарисуй целые паузы



Динамические оттенки

f форте - громко

ff фортиссимо - очень громко


mf меццофорте - не очень громко


sf сфорцандо - внезапно громко

p пиано - тихо

pp пианиссимо - очень тихо

mp меццопиано - очень тихо

 крещендо - постепенно усиливать звучание

 диминуэндо - постепенно ослаблять звучание